

問題 1

図 1

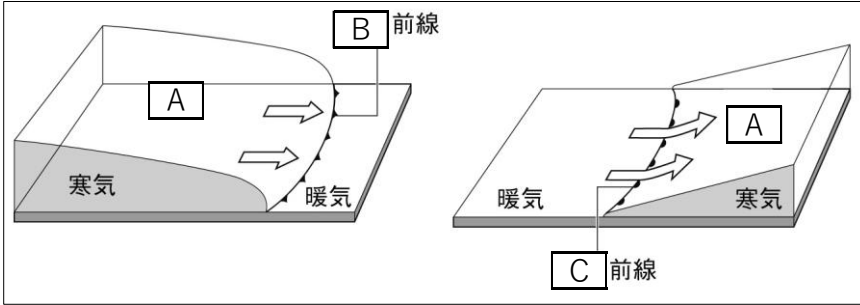
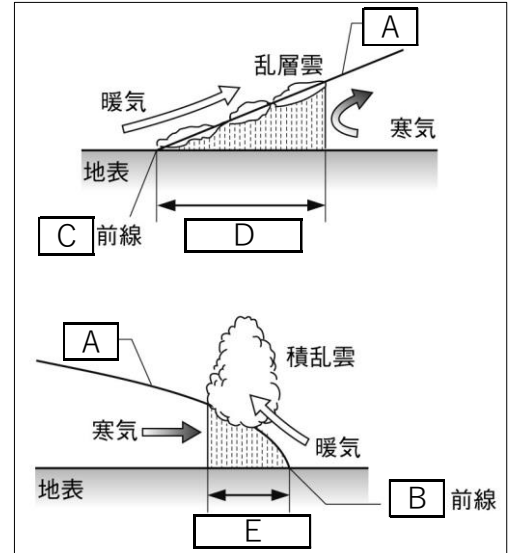


図 2



- ① 図 1・2 中 A にあてはまる語句で、性質の異なる気団が接する境の面を何というか。
- ② 図 1・2 中 B と C にあてはまる前線名をそれぞれ書きなさい。
- ③ 図 1・2 中 B と C の前線付近に降る雨の特徴について、図 2 中 D と E にあてはまる内容をそれぞれ書きなさい。

①		② B	前線	C	前線
③ D					E

問題 2

図 1

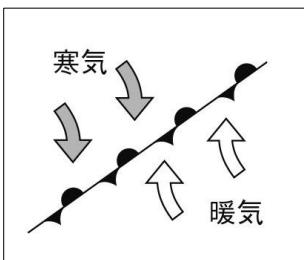


図 2

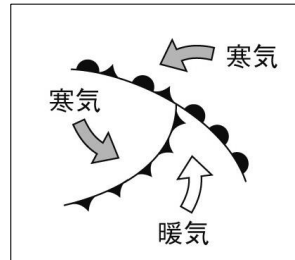
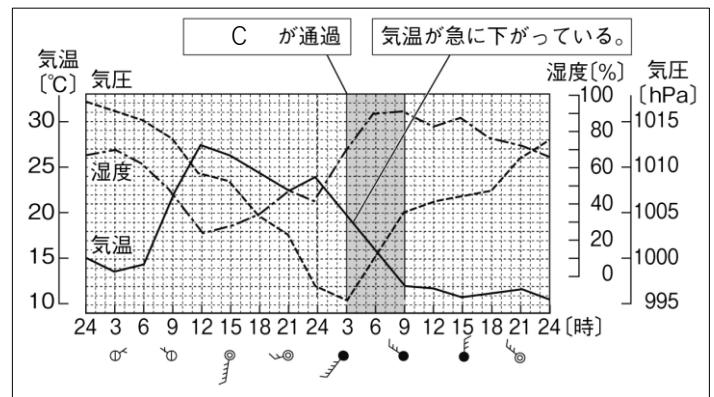


図 3



- ① 図 1 のように、寒気団と暖気団の勢力がほぼ同じで、上空の風の向きが前線と平行になってほとんど動かない前線を何というか。
- ② 寒冷前線が温暖前線に追いついてできた前線を何というか。
- ③ 図 2 中 C にあてはまる前線は、温暖前線、寒冷前線のどちらであるか、書きなさい。
- ④ 図 2 中の C が通過するとき、風向きはどのように変わったか、書きなさい。
- ⑤ 図 2 中の C が通過するとき、天気はどのように変わったか、書きなさい。

①	②	③	④
⑤			